

پیک
نوروزی

آدینه‌ها با گراد

۶

پایه ششم دبستان

- بودجه بندی محتوایی (سالانه)
- بودجه بندی هفتگی و ماهانه
- جدول ارزشیابی پایانی
- سرگرمی

فعالیت‌ها

خلاصه ای از تمام فصل های کتاب

آدینه‌ها با گراد

مهر ماه

پایه ششم

شماره ۱



این هفته با طعم انار

قرآن : مرور سال قبل

هدیه های آسمان : مرور سال قبل

فارسی : مرور سال قبل

ریاضی : مرور سال قبل

علوم : مرور سال قبل

مطالعات اجتماعی : مرور سال قبل

نام و نام خانوادگی :

دبستان :

کلاس :



قرآن

۱ با توجه به آیه ی زیر خداوند انسان را به چه سفارش کرده است؟



فَاقِيمُوا الصَّلَاةَ وَآتُوا الزَّكَاةَ

- الف) برپا داشتن نماز و روزه.
- ب) خواندن نماز و پرداخت زکات.
- ج) رفتن به حج و پرداخت زکات
- د) اطاعت از خدا و خواندن نماز

۲ مفهوم بیت زیر با کدام یک از آیات مطابقت دارد؟

به آیات قرآن فرا دار گوش

چو قرآن بخوانند دیگر خموش

- الف) و إِذَا قُرِئَ الْقُرْآنُ فَاسْتَمِعُوا لَهُ
- ب) تَعَاوَنُوا عَلَى الْبِرِّ وَالتَّقْوَى
- ج) ص وَالْقُرْآنِ ذِي الذِّكْرِ
- د) لَئِنْ شَكَرْتُمْ لَأَزِيدَنَّكُمْ

نیاز به تلاش بیشتر


قابل قبول

خوب

خیلی خوب



سوره های آسمانی



۱ سوره ای که به نام یکی از پدیده های طبیعی است؟

- الف) سوره جمعه
- ب) سوره توحید
- ج) سوره ناس
- د) سوره لیل

۲ بهترین زنان بهشتی را نام ببرید.

۳ «توحید» یعنی چه؟

۴ پیامبر اسلام (ص) در جوانی به چه نامی معروف بودند؟ چرا؟

۵ برنامه ریزی چه فوایدی دارد؟



۶ حکامان ستمگر عباسی هر کدام از امامان زیر را به اجبار به کدام شهر بردند؟

امام هادی (ع) از شهر به شهر

امام حسن عسکری (ع) از شهر به شهر

امام رضا (ع) از شهر به شهر

خیلی خوب خوب قابل قبول نیاز به تلاش بیشتر



فارسی

۱ در بین کلمات زیر کدام یک با بقیه فرق دارد؟

الف) مشاغل ب) عاقل ج) مباحث د) مراحل

۲ در بیت زیر منظور شاعر از خنده گل چه می باشد؟

گل بخندد بر سر گل بوته ها
پرنده بوی خوش گل باغ را

منظور شاعر:

۳ در بیت زیر کلمات متضاد را مشخص کنید.

بحر آفرید و بر و درختان و آدمی
خورشید و ماه و آنچُم و لیل و نهار کرد،

۴ ترجمه عجل ... تعالی فرجه الشریف چیست؟

ترجمه:

۵ در کدام یک از عبارات زیر چو یا چون با سایر گزینه ها متفاوت است؟

الف) شما را چون مادر خود دوست دارم.

ب) آن دو را چون دو دوست می دیدند.

ج) چون باران می آمد، خیس شده بود.

د) چون شمشیر تیز و برنده بود.





۶ در جمله ی زیر نقش دستوری کلماتی را که مشخص شده بنویسید.

«آن ها با خوشحالی صبحانه ی خود را در کلاس خوردند.»

نقش دستوری آن ها :

صبحانه خود را :

خوردند:



نیاز به تلاش بیشتر

قابل قبول


خوب

خیلی خوب



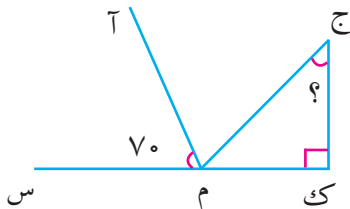
ریاضی

۱ در یک آپارتمان، ۲۰ واحد آپارتمان ۷۵ متری وجود دارد. اگر قیمت کل این ساختمان چهار میلیارد و صد و بیست و پنج میلیون تومان باشد، قیمت هر متر مربع از واحدهای این آپارتمان را محاسبه کنید.



۲ کامل کنید:

- عدد مخلوط از یک عدد (.....) که نشان دهنده ی تعداد واحد کامل است و یک کسر کوچک تر از تشکیل می شود.
- در مقایسه دو کسر که مخرج های آن مساوی باشد کسری بزرگ تر است که
- واحدی است که برای محاسبه مساحت زمین های کشاورزی به کار می رود.
- یک کیلومتر مربع مساحت مربعی است که یک ضلع آن متر است.



۳ زاویه خواسته شده را پیدا کنید.

(آ م : نیم ساز است.)

۴ $\frac{۳}{۵}$ دانش آموزان یک آموزشگاه ۳۶۰ نفری، در تیم های ورزشی آموزشگاه شرکت کرده اند:

الف) تعداد دانش آموزان شرکت کننده چند نفر است؟

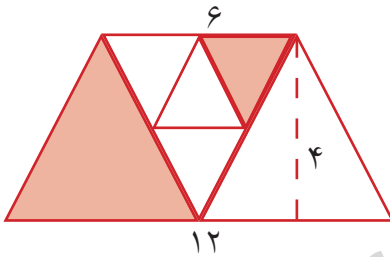
ب) چند نفر شرکت نکرده اند؟

ج) نسبت تعداد شرکت کنندگان به کسانی که شرکت نکرده اند؟

د) نسبت تعداد شرکت کنندگان به کل آموزشگاه؟

ه) چند درصد شرکت نکرده اند؟

۵ مساحت قسمت رنگی را به دست آورید.

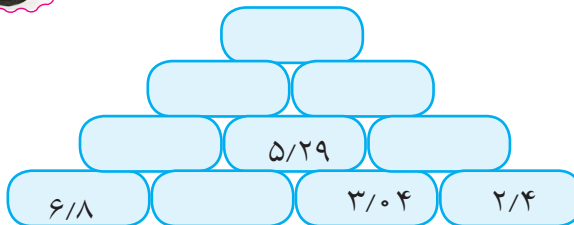


۶ مسافتی که چرخ های یک سه چرخه روی هم با پنج بار دور کامل طی می کند را به دست آورید.

(شعاع چرخ بزرگ ۳۰ سانتی متر و شعاع چرخ های کوچک ۱۵ سانتی متر می باشد.)



۷ جدول را کامل کنید.



۸ فاصله یک رأس مثلث متساوی الاضلاع تا ضلع مقابل آن چه نام دارد؟

د) ارتفاع

ج) نیم ساز

ب) قاعده

الف) زاویه



۹ عدد اعشاری $1/75$ با کدام کسر برابر است؟

(د) $1 \frac{2}{10}$

(ج) $1 \frac{11}{8}$

(ب) $1 \frac{9}{12}$

(الف) $1 \frac{1}{125}$

نیاز به تلاش بیشتر

قابل قبول

خوب

خیلی خوب



عالم سوم



۱ تغییر فیزیکی و تغییر شیمیایی را توضیح دهید.

۲ ویژگی های سنگ های رسوبی کدامند؟

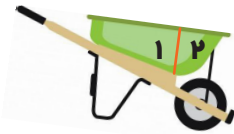
۳ با مطالعه ی فسیل ها به چه نتیجه ای می رسید؟

۴ عملکرد مردمک و عدسی چیست؟

۵ در بدن انسان، زبان چه وظایفی را برعهده دارد؟

۶ ساختمان پوست از چند لایه تشکیل شده است؟ ویژگی های هر کدام را به اختصار توضیح دهید.

۷ فرغون نوعی اهرم است. نیروهای وارد شده بر آن را مشخص کنید و جسم در کدام قسمت قرار بگیرد تا نیروی کم تری برای حرکت فرغون لازم باشد؟



۸ عوامل مؤثر در تشکیل خاک چیست؟



۹ کار آوند را در گیاهان توضیح دهید.

نیاز به تلاش بیشتر

قابل قبول

خوب

خیلی خوب





مطالعات اجتماعی

۱ به خرید و فروش کالا در داخل یک کشور یا کشورهای دیگر چه می گویند؟

- (الف) واردات (ب) صادرات
- (ج) حمل و نقل (د) بازرگانی

۲ مهم ترین قانون هر کشور نام دارد.

۳ هر یک از سازمان های زیر چه وظیفه ای دارند؟



..... جمعیت هلال احمر:

..... سازمان انتقال خون:

۴ یعنی اینکه فرد بتواند احساسات و رفتار دیگران را درک کند و خود را جای او بگذارد.

۵ مشهورترین فرمانروای غزنوی چه نام داشت؟

۶ نام مسجدی که به همت همسر شاهرخ ساخته شد بود که در شهر بنا شد.

۷ کدام فرماندهان مغول با حمله به ایران خرابی های زیادی به بار آوردند؟

۸ عوامل زیر را دسته بندی کنید:

خشک سالی - اشتغال - فروشگاه های بزرگ - دانشگاه - کمبود درآمد - جنگ.

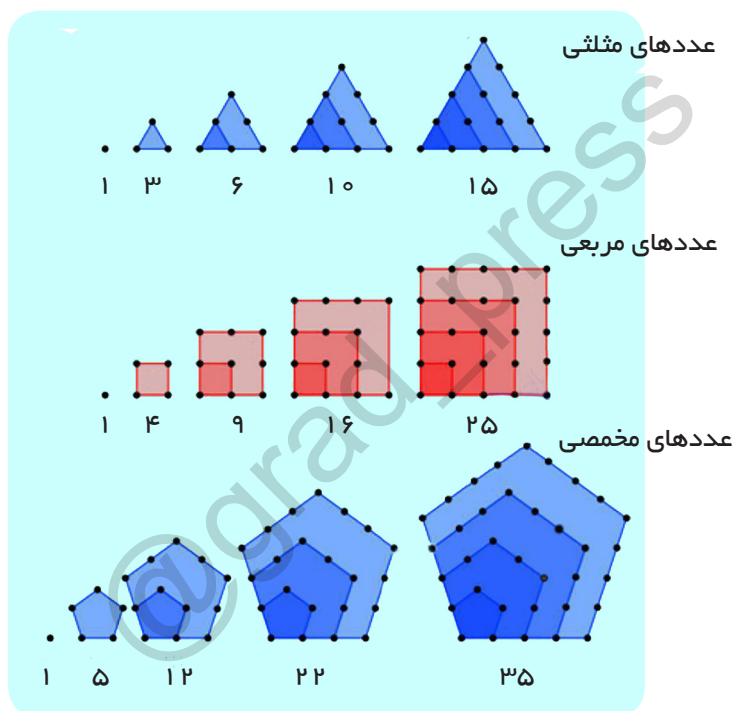
جذب کننده جمعیت:

دور کننده جمعیت:

نیاز به تلاش بیشتر قابل قبول خوب خیلی خوب



به دنباله هایی از عددهای طبیعی که اولین جمله آنها یک و سایر جملات آنها معرف دسته ای از چند جمله ای های منظم باشند اعداد مصور (هندسی) می گویند.



شاخص‌ها	ارزیابی	خیلی خوب	خوب	متوسط	کم
میزان رضایت‌مندی از انجام تمرینات					
میزان درک و فهم تمرینات					
مسئولیت‌پذیری و اجرای زمان‌بندی برای انجام تکالیف					
داشتن دقت و تمرکز لازم برای انجام تمرینات					

آدینه‌ها با گراد

مهر ماه

پایه ششم

۲

شماره ۱



این هفته با طعم تمشک

قرآن : صفحه‌ی ۲ الی ۵ درس ۱

هدیه‌های آسمان : صفحه‌ی ۸ الی ۱۳ درس ۱

فارسی : صفحه‌ی ۹ الی ۱۳ درس ۱

ریاضی : صفحه‌ی ۱ الی ۵ الگوهای عددی

علوم : صفحه‌ی ۷ الی ۱۲ درس ۱ زنگ علوم

مطالعات اجتماعی : صفحه‌ی ۱۰ الی ۱۳ درس ۱

نام و نام خانوادگی :

دبستان :

کلاس :



قرآن

۱ در کلمه ی «تواخذنا» کدام حرف خوانده نمی شود؟

- الف) (و) ب) (ء) ج) (ؤ) د) (ا)




۲ هر کلمه را به معنی آن وصل کنید.

- | | | |
|-------------|---|---------------|
| مَغْفِرَة | ♦ | نماز |
| قُلُوب | ♦ | انفاق می کنند |
| يُنْفِقُونَ | ♦ | آمرزش |
| صَلَاة | ♦ | دل ها |

- نیازه تلاش بیشتر قابل قبول خوب خیلی خوب

دکیمه های آسمانی

۱ در سوره ی توحید به کدام صفت خداوند اشاره نشده است؟



- الف) بی نیازی ب) یکتایی
ج) علم و دانایی د) بی همانندی

۲ ... الصمد یعنی خداوند است.

۳ دانش آموز عزیز یکی از اصول دینی ما مسلمانان توحید است برداشت خود را از توحید بنویسید.

۴ بیت «تو به آفتاب گفتی به زمین قدم گذارد» خطاب به کیست؟

۵ در سوره ی توحید خداوند بی نیاز معرفی شده است بی نیازی خداوند را در چه مواردی می دانید؟ (۳ مورد)

- نیازه تلاش بیشتر قابل قبول خوب خیلی خوب



۱ با توجه به متن درس « معرفت آفریدگار » چه کاری سبب تاریکی دل می شود؟

(الف) اندیشه کردن در کار خالق و مخلوق.

(ب) شکر گزاری از نعمت های خداوند.

(ج) عبادت خداوند بزرگ.

(د) فکر نکردن در کار خداوند و آفریده های او.



۲ با توجه به گزینه های زیر کدام مفهوم با بقیه فرق می کند؟

(الف) گندم زار (ب) چمنزار

(ج) مرغزار (د) مرغ زار

۳ نوع جمله را در عبارات زیر مشخص کنید و نشانه ی نگارشی مناسب را در آخر جمله قرار

بدهید.

عجب هوای لطیفی:

خیز و غنیمت شمار جنبش باد ربیع:

بلبل و قمری چه خواند:

۴ فعل ها را در بیت زیر پیدا کنید.

باز به گردون رسید ناله ی هر مرغ زار

باد بهاری وزید از طرف مرغزار

۵ موصوف و صفت را در بیت زیر پیدا کنید.

هر ورقش دفتری است معرفت کردگار

برگ درختان سبز در نظر هوشیار

باز به گردون رسید ناله ی هر مرغ زار

باد بهاری وزید از طرف مرغزار



نیاز به تلاش بیشتر



قابل قبول



خوب



خیلی خوب






ریاضی


۱) براساس الگوهای تصویری زیر الگو را پیدا کنید و سپس براساس آن بگویید شکل سی ام از چند قسمت تشکیل شده است؟



شکل (۱)



شکل (۲)



شکل (۳)

.....

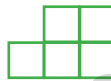
شکل (۳۰)



شکل (۱)



شکل (۲)




شکل (۳)

.....

شکل (۳۰)



شکل (۱)



شکل (۲)



شکل (۳)



شکل (۴)

.....

شکل (۳۰)

۲) با توجه به الگو جدول را کامل کنید و به سؤالات پاسخ دهید.



شماره شکل	۱	۲	۳	۴	...	۵۰	...
تعداد	۳	۲۴
رابطه	9×3

براساس اطلاعات بالا رابطه ی الگو را به کمک \square (تعداد) و \circ (شماره ی شکل) بنویسید.



- نام دیگر این مجموعه از اعداد چیست؟

- با توجه به این تمرین می توانید بگویید ساده ترین راه پیدا کردن مضربهای عدد یک کدام است؟



با تکمیل جاهای خالی به سؤالات پاسخ دهید.

- کوچک ترین عدد زوج چهار رقمی است.

- بزرگ ترین عدد فرد چهار رقمی است.

الف) اختلاف این دو را به دست آورید.

ب) اگر حاصل این اختلاف را در عددی فرد ضرب کنیم جواب عددی می شود.

ج) اگر حاصل قسمت «الف» را در عددی زوج ضرب کنیم جواب عددی می شود.

د) اگر عددی زوج را از حاصل قسمت «الف» کم کنیم حاصل است.

ه) اگر عددی فرد را از حاصل قسمت «الف» کم کنیم جواب عددی است.

نیاز به تلاش بیشتر

قابل قبول

خوب

خیلی خوب



علوم

1 تفسیر به عنوان یکی از مراحل حل مسئله، چه زمانی انجام می شود؟



۲ به نظر مریم بوی عطری که در اتاق پخش شده بعلت جنبش زیاد مولکول های آن است. این گفته مربوط به کدام مرحله ی علمی است؟



۳ نظریه چیست؟



۴ دانش آموز در کدام مرحله از مراحل آزمایش تمام مهارت های خود را بکار می گیرد؟ چرا؟

۵ آیا همه ی شهاب سنگ ها از جو زمین عبور می کنند؟ چرا؟

۶ نموداری طراحی کنید که نشان دهد در شرایط یکسان از نظر قطر، وزن تپله ها و جنس خاک، دهانه ی گودال چگونه تغییر می کند؟



۷ فواید شهاب سنگ ها چیست؟

۸ آیا برخورد شهاب سنگ می تواند موجب سونامی شود؟ چرا؟

نیاز به تلاش بیشتر

قابل قبول

خوب

خیلی خوب





مطالعات اجتماعی

۱ انسان موجودی است و نمی تواند تنها زندگی کند.

۲ کدام گزینه بیانگر مفهوم بیت زیر است؟

« تو اول بگو با کیان زیستی
من آنکه بگویم که تو کیستی»

الف) تاثیر دوست بر هويت.

ب) تاثیر دوست بر حل مشکلات.

ج) تاثیر دوست بر شخصيت و اخلاق.

د) تاثیر دوست بر افزايش آرامش.

۳ سخن زیر فرموده ی چه کسی است؟

«با نیکان هم دلی و رفاقت کن تا از آنان باشی»

الف) امام علی (ع) ب) امام حسین (ع)

ج) حضرت محمد (ص) د) امام صادق (ع)



۴ خداوند در سرشت انسان ها چه چیزهایی قرار داده ؟ نام ببرید.

۵ پیشوایان دینی دوستی با چه افرادی را منع کرده اند؟

۶ حضرت محمد (ص) در رابطه با بدترین افراد چه فرموده اند؟

نیاز به تلاش بیشتر

قابل قبول

خوب

خیلی خوب



قانون : اعداد ۱ تا ۹ را به گونه ای در جدول قرار دهید که اعداد در هیچ ستون یا ردیفی و همچنین مربع های ۳ تایی، اعداد تکراری نباشند

			۲	۶		۷		۱
۶	۸			۷				۹
۱	۹				۴	۵		
۸	۲		۱				۴	
		۴	۶		۲	۹		
	۵				۳		۲	۸
		۹	۳				۷	۴
	۴			۵			۳	۶
۷		۳		۱	۸			

کم

متوسط

خوب

خیلی خوب

ارزیابی

شاخص‌ها

میزان رضایت‌مندی از انجام تمرینات

میزان درک و فهم تمرینات

مسئولیت‌پذیری و اجرای زمان‌بندی برای انجام تکالیف

داشتن دقت و تمرکز لازم برای انجام تمرینات